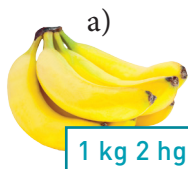


Läxa 24 Efter avsnitt 6.4

- 1 Avrunda
- a) 67,5 till tiotal
 - b) 778 till hundratal
 - c) 9,43 till tiondelar

2 Skriv vikterna i kilogram.



3 Skriv längderna i meter.

- a) 2 m 25 cm
- b) 40 cm
- c) 1 m 5 cm

4 Hur lång tid är det mellan klockslagen? a) 12.10 – 14.55 b) 18.50 – 22.25

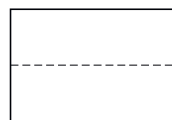
5 a) $135,5 + 27,8$ b) $7 \cdot 164,3$ c) $\frac{229,2}{6}$

6 En rektangel (figur 1) delas mitt itu och delarna placeras på det sätt som figur 2 visar. Vilket eller vilka påståenden är sanna?

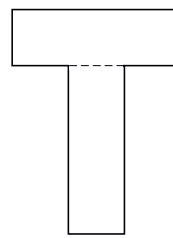
A: Figur 2 har längre omkrets än figur 1.

B: Figurerna har samma area.

C: Figur 1 har större area än figur 2.



Figur 1



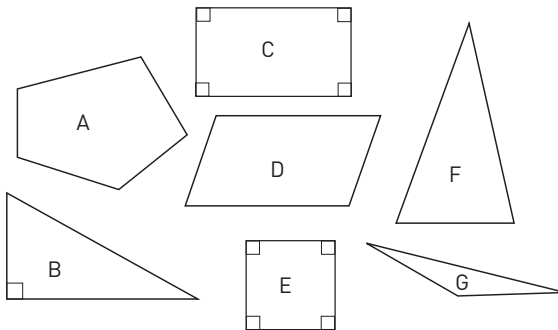
Figur 2

7 En vedbod är 4 m lång och 3 m bred.

Hur stor area har vedboden på en ritning i skala 1:100?

8 Vilken eller vilka av figurerna

- a) har endast spetsiga vinklar
- b) är månghörningar
- c) är rektanglar
- d) är kvadrater



9 Rita två olika trianglar med arean 8 cm^2 .

10 Om en bagare tar 6 hg deg till varje limpa, kan han baka 50 limpor. Hur många limpor blir det av samma deg, om han tar 100 g mindre till varje limpa?

Veckans problem

Ersätt bokstäverna med siffror så att beräkningen stämmer.

Det finns flera olika lösningar. Hur många lösningar hittar du?

$$\begin{array}{r} BC \\ - CB \\ \hline 9 \end{array}$$