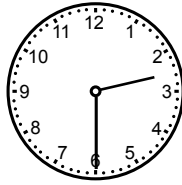
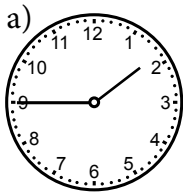

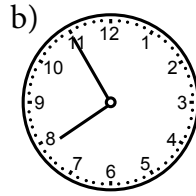


Läxa 19

- 1 a) $98 + 30$ b) $76 - 40$ c) $342 + 500$
- 2 a) $\frac{630}{3}$ b) $700 \cdot 6$ c) $\frac{505}{5}$
- 3 Hur många decimeter är
a) 80 cm b) 140 cm c) 200 mm
- 4 Hur lång tid har det gått mellan klockslagen?



Eftermiddag



Morgon

- 5 a) Vad kallas figuren?
b) Mät sidorna i hela centimeter
och räkna ut omkretsen.
c) Rita en kvadrat med lika lång omkrets.



- 6 I en spjuttävling kastade den bäste finländaren 98 m.
Den bäste svensken kastade 5 m 50 cm kortare.
Hur långt kastade han?

- 7 a) $\frac{6\ 240}{4}$ b) $7 \cdot 735$ c) $\frac{7\ 806}{6}$

- 8 Jacobs mormor stickar en halsduk åt honom.
Efter sex dagar har hon stickat 90 cm.
Halsduken ska bli 1 m 50 cm lång. Mormor stickar lika långt varje dag.
Hur många dagar till måste mormor sticka?

Veckans problem

Vilket är nästa tal?

64 32 16 8 ?