
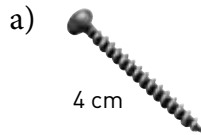


Läxa 17

1 a) $1\ 000 \cdot 92$ b) $6 \cdot 80$ c) $400 \cdot 8$

2 Skriv måtten i millimeter.



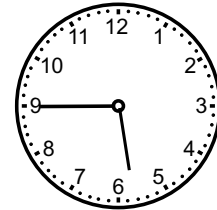
3 I Gärdesskolan går det 480 elever. När eleverna ska äta lunch är de uppdelade i tre lika stora grupper. Hur många äter i varje grupp?

4 a) $482 + 347$ b) $916 - 328$ c) $7 \cdot 125$

5 a) Vad visar klockan?

b) Hur mycket var klockan för en kvart sen?

c) Hur mycket är klockan om en halvtimme?



Eftermiddag

6 a) $\frac{860}{4}$ b) $\frac{605}{5}$ c) $\frac{729}{3}$

7 Två pizzor kostar sammanlagt 98 kr.
Hur mycket kostar fem sådana pizzor?

8 Rebecka köpte en hjälm och ett par skidglasögon för 900 kr. Hjälmen var tre gånger så dyr som skidglasögonen.
Hur mycket kostade skidglasögonen?



Veckans problem

Ester, Johanna, Erika och Anna utmanar varandra på pingis. Hur många matcher har de spelat sammanlagt när alla har mött alla en gång?

