
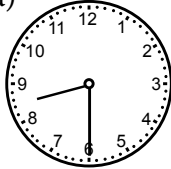


## Läxa 10


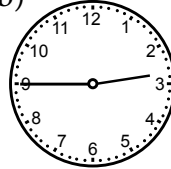
- 1 a)  $38 + 30$                       b)  $97 + 20$                       c)  $649 - 400$
- 2 Skriv i digital tid.  
a) Kvart i fem på eftermiddagen  
b) Halv åtta på kvällen
- 3 a)  $100 \cdot 5$                       b)  $14 \cdot 1\,000$                       c)  $32 \cdot 100$
- 4 Skriv två multiplikationer som ger produkten 18.
- 5 Hur lång tid är det mellan klockslagen?

a)



Förmiddag

b)



Eftermiddag

- 6 Mia cyklar 75 km på två dagar. Den första dagen cyklar hon 37 km. Hur långt cyklar Mia den andra dagen?
- 7 Tre påsar med äpplen kostar sammanlagt 63 kr. Hur mycket kostar äpplena per kilogram om varje påse innehåller 3 kg äpplen?
- 8 Under ett år föddes 49 558 flickor och 51 862 pojkar i Sverige.  
a) Hur många barn föddes sammanlagt?  
b) Hur många fler pojkar än flickor föddes?

### Veckans problem

Jens står på den mittersta pinnen på en stege. Först kliver han nedåt två steg. Sen ändrar han sig och klättrar sju steg uppåt. Då står han på den näst översta pinnen. Hur många pinnar har stegen?

