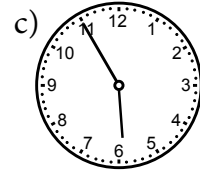
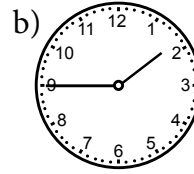
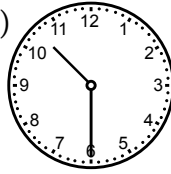


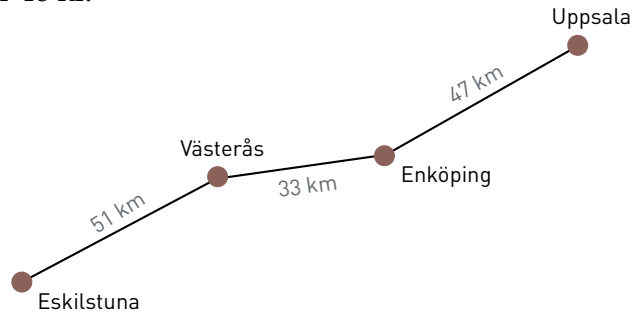
## Läxa 9

- 1 Skriv talen med siffror.  
 a) etthundraåttio                      b) tretusen femhundrafyra
- 2 a)  $6 \cdot 500$                       b)  $\frac{54}{6}$                       c)  $90 \cdot 7$
- 3 Skriv i digital tid.  
 a) Halv nio på kvällen  
 b) Kvant över två på eftermiddagen

- 4 Skriv två klockslag till varje bild.



- 5 En påse med 6 bullar kostar 48 kr.  
 Hur mycket kostar  
 a) 1 bulle  
 b) 3 bullar  
 c) 5 bullar



- 6 Hur långt är det mellan Eskilstuna och Uppsala?
- 7 Isak och Irma köper tillsammans sju lotter för 56 kr.  
 a) Hur mycket ska Isak betala om han tar fyra av lotterna?  
 b) Hur mycket ska Irma betala?



- 8 Det högsta torn med legobitar som byggts var 29 485 mm högt.  
 Hur många millimeter högre skulle tornet behövt vara för att det skulle ha varit 30 m? (1 m = 1 000 mm)

### Veckans problem

I en slalombacke står det 14 portar.  
 Det är 10 m mellan varje port.  
 Hur långt är det mellan första och sista slalomporten?